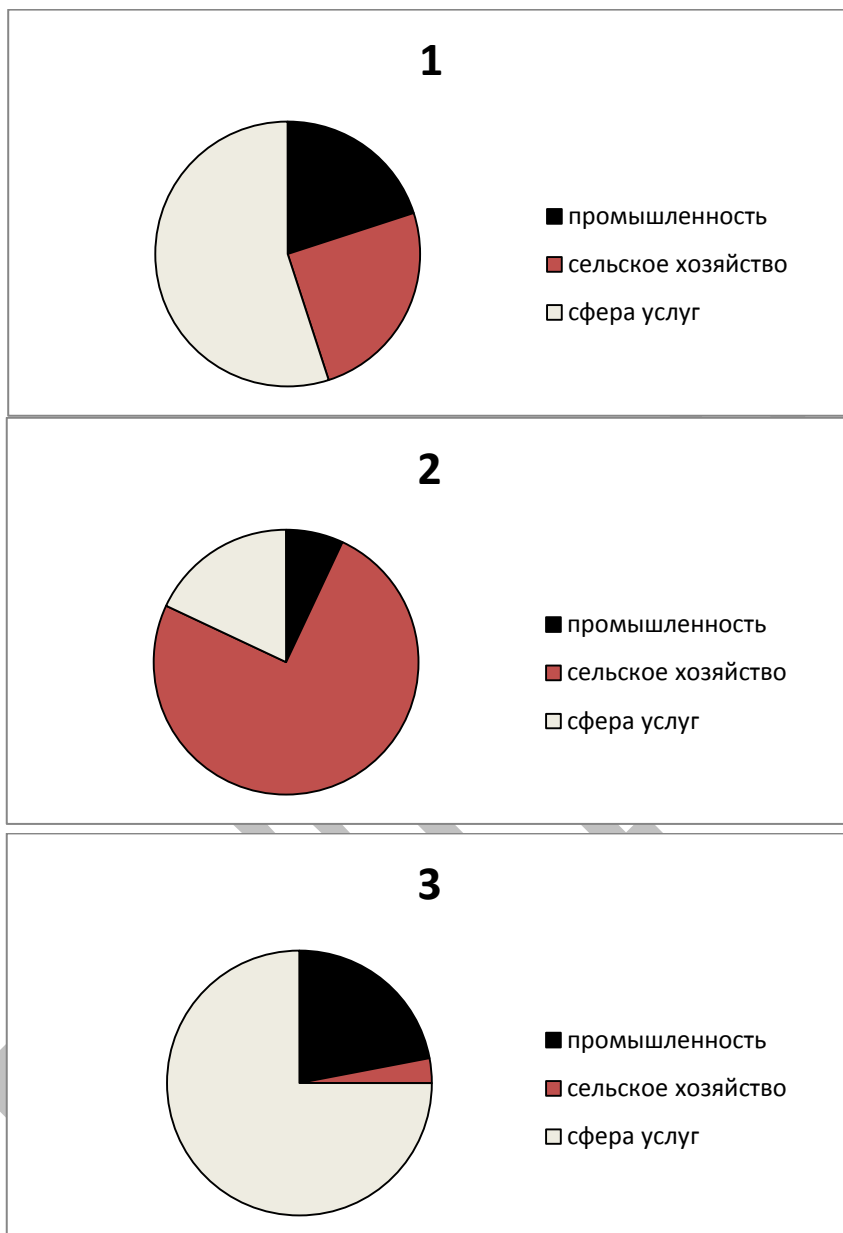




Задание № 10.

1. Установите соответствие между страной и диаграммой, отражающей распределение её экономически активного населения по секторам экономики: к каждой позиции, данной в первом столбце, подберите соответствующую позицию из второго столбца.

- А) Дания
- Б) Афганистан
- В) Парагвай

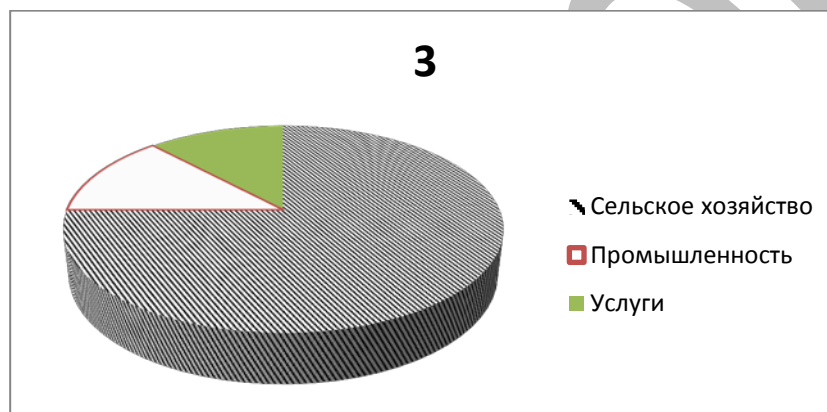
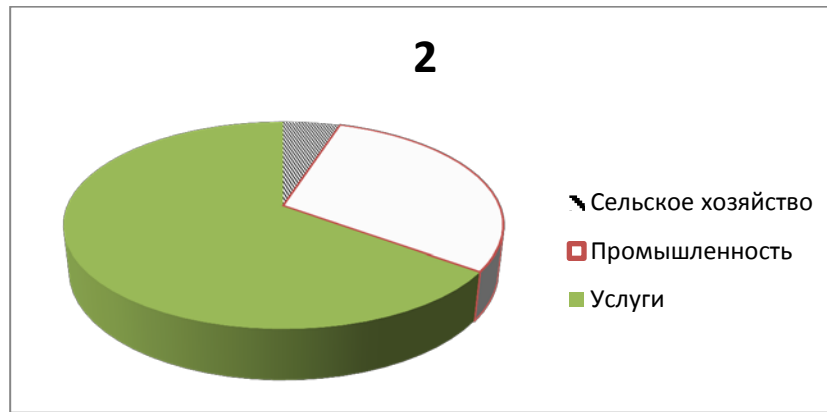
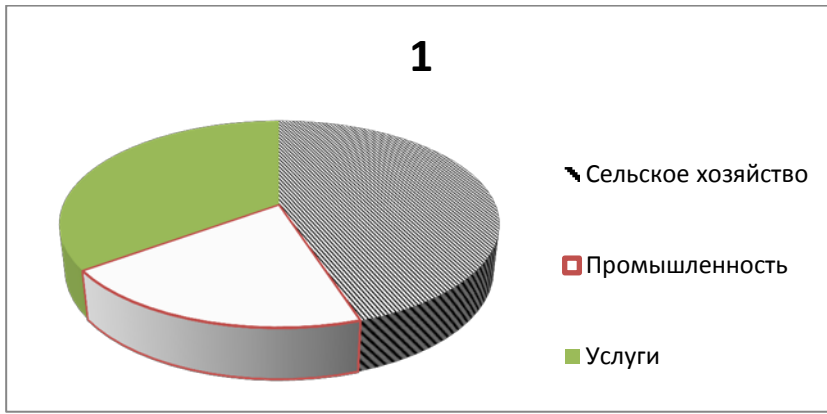


Запишите в ответ цифры, расположив их в порядке, соответствующем буквам:

| А | Б | В |
|---|---|---|
| | | |

2. Установите соответствие между страной и диаграммой, отражающей распределение её экономически активного населения по секторам экономики: к каждой позиции, данной в первом столбце, подберите соответствующую позицию из второго столбца.

- А) Австрия
- Б) Чад
- В) Китай

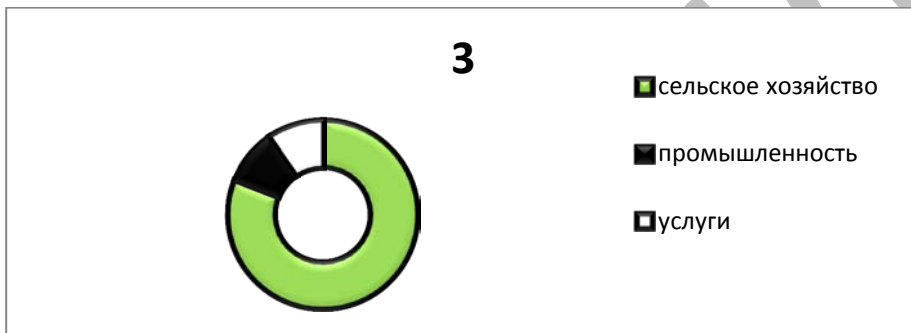
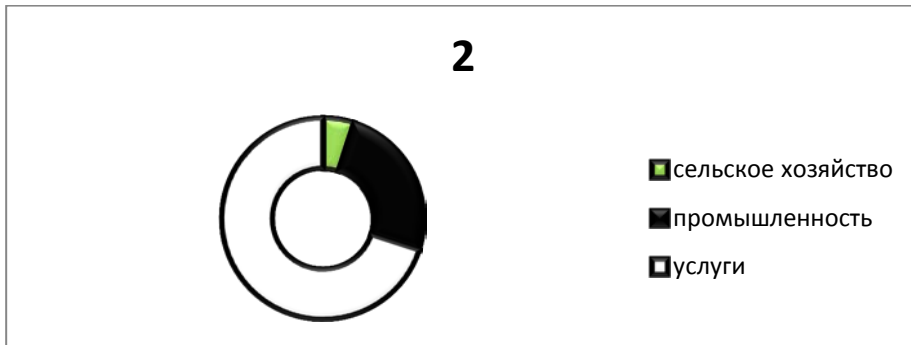
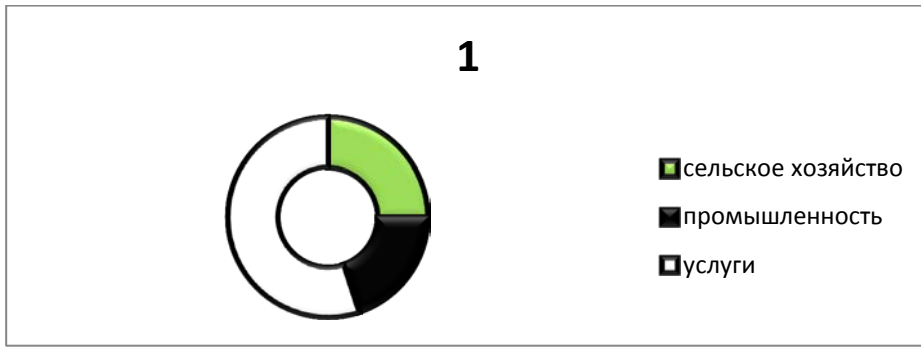


Запишите в ответ цифры, расположив их в порядке, соответствующем буквам:

| А | Б | В |
|---|---|---|
| | | |

3. Установите соответствие между страной и диаграммой, отражающей распределение ее экономически активного населения по секторам экономики: к каждой позиции, данной в первом столбце, подберите соответствующую позицию из второго столбца.

- А) Бельгия
- Б) Мексика
- В) Нигер

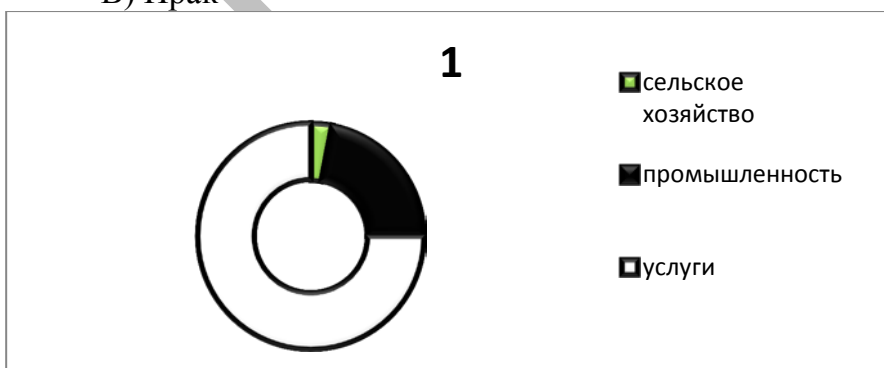


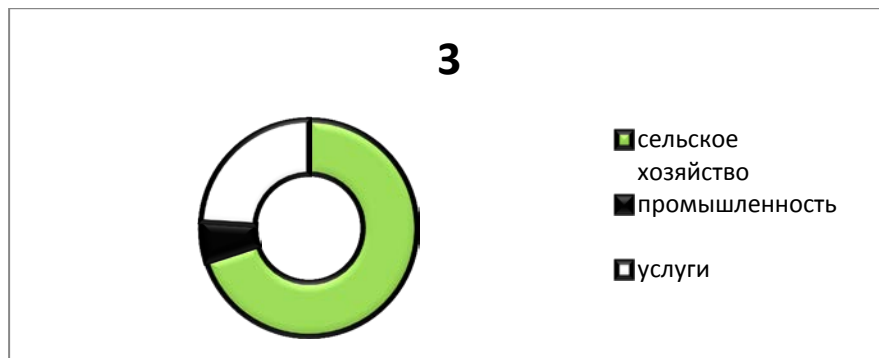
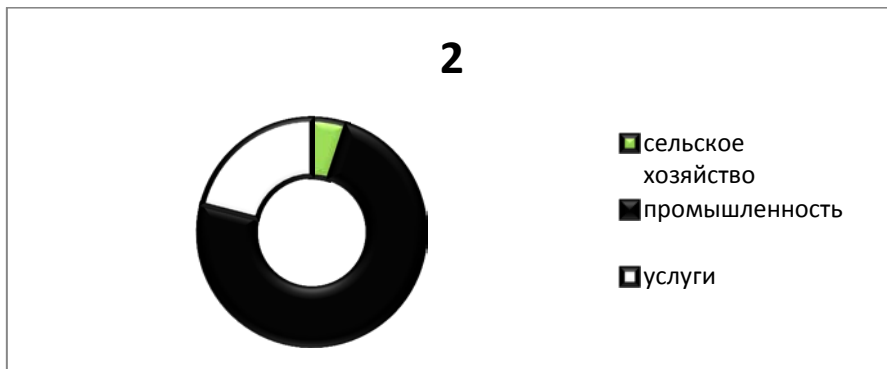
Запишите в ответ цифры, расположив их в порядке, соответствующем буквам:

| А | Б | В |
|---|---|---|
| | | |

4. Установите соответствие между страной и диаграммой, отражающей распределение ее экономически активного населения по секторам экономики: к каждой позиции, данной в первом столбце, подберите соответствующую позицию из второго столбца.

- А) Швеция
- Б) Либерия
- В) Ирак



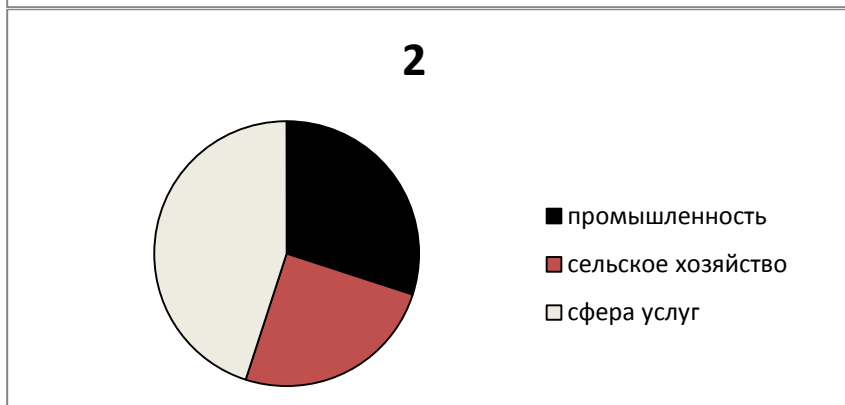


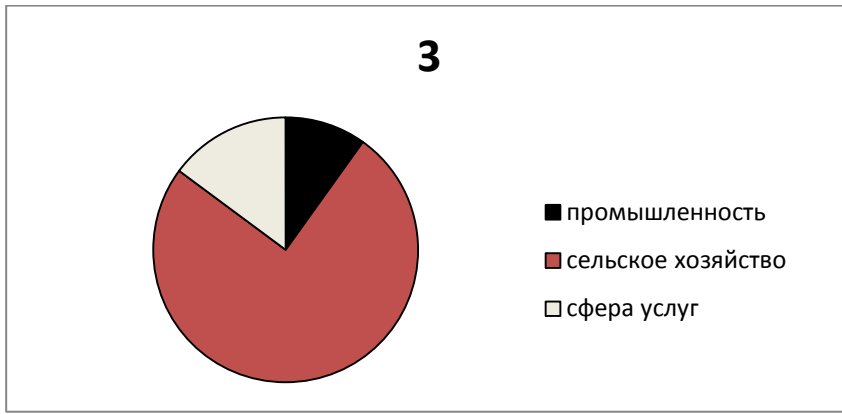
Запишите в ответ цифры, расположив их в порядке, соответствующем буквам:

| А | Б | В |
|---|---|---|
| | | |

5. Установите соответствие между страной и диаграммой, отражающей распределение ее экономически активного населения по секторам экономики: к каждой позиции, данной в первом столбце, подберите соответствующую позицию из второго столбца.

- А) Австралия
- Б) Мали
- В) Иран



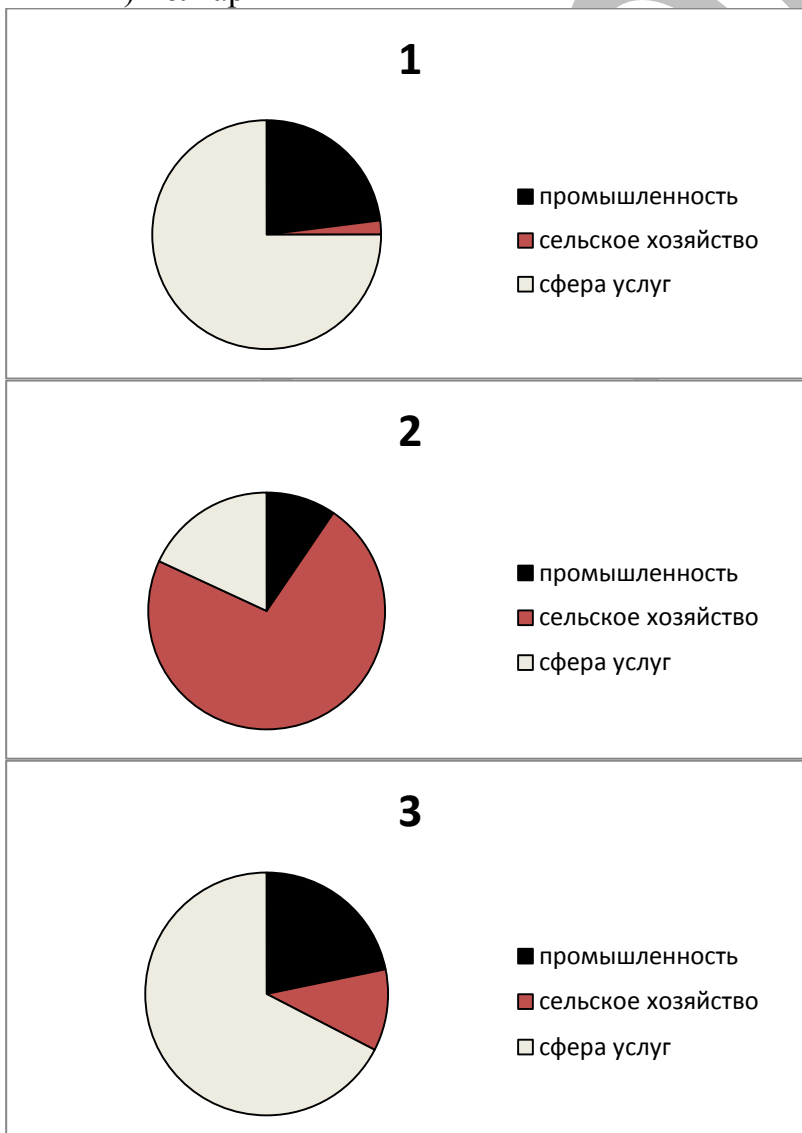


Запишите в ответ цифры, расположив их в порядке, соответствующем буквам:

| А | Б | В |
|---|---|---|
| | | |

6. Установите соответствие между страной и диаграммой, отражающей распределение ее экономически активного населения по секторам экономики: к каждой позиции, данной в первом столбце, подберите соответствующую позицию из второго столбца.

- А) Канада
- Б) Эфиопия
- В) Болгария

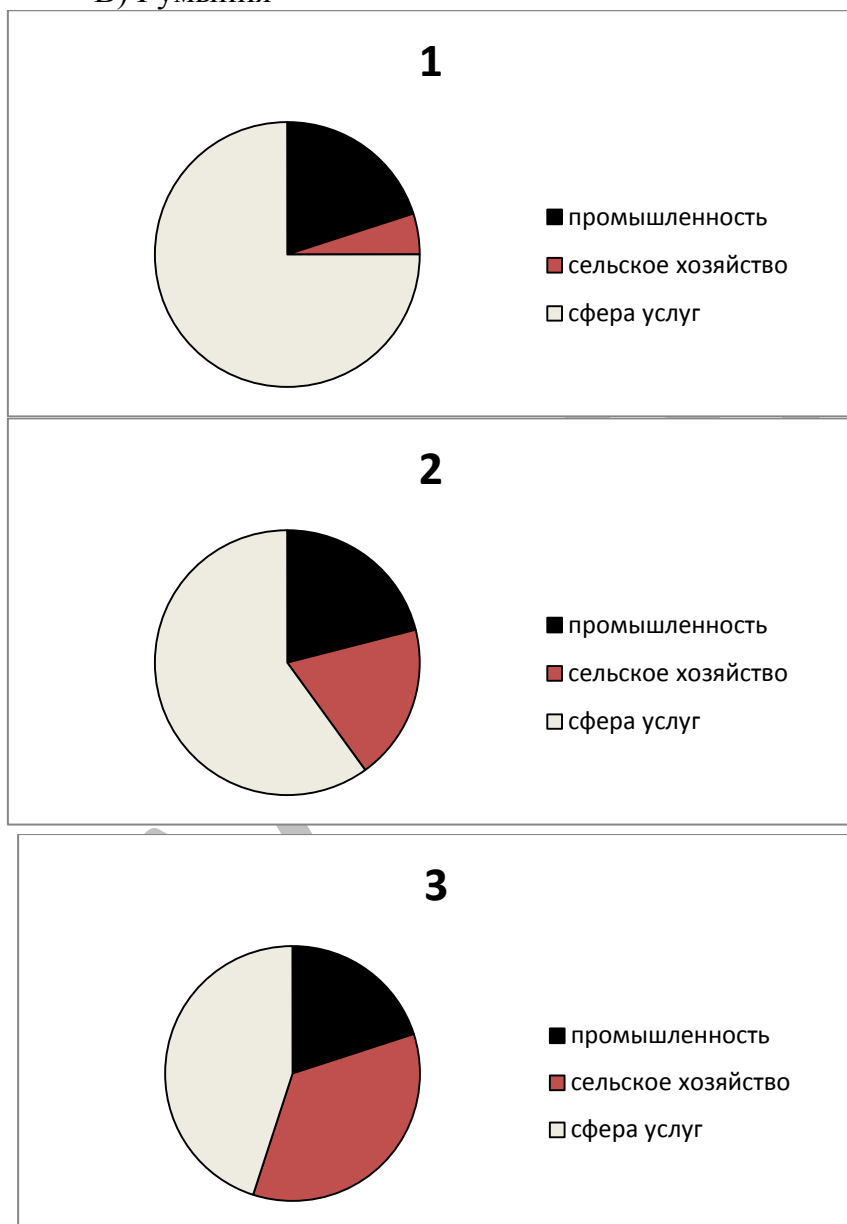


Запишите в ответ цифры, расположив их в порядке, соответствующем буквам:

| А | Б | В |
|---|---|---|
| | | |

7. Установите соответствие между страной и диаграммой, отражающей распределение ее экономически активного населения по секторам экономики: к каждой позиции, данной в первом столбце, подберите соответствующую позицию из второго столбца.

- А) Дания
- Б) Бангладеш
- В) Румыния

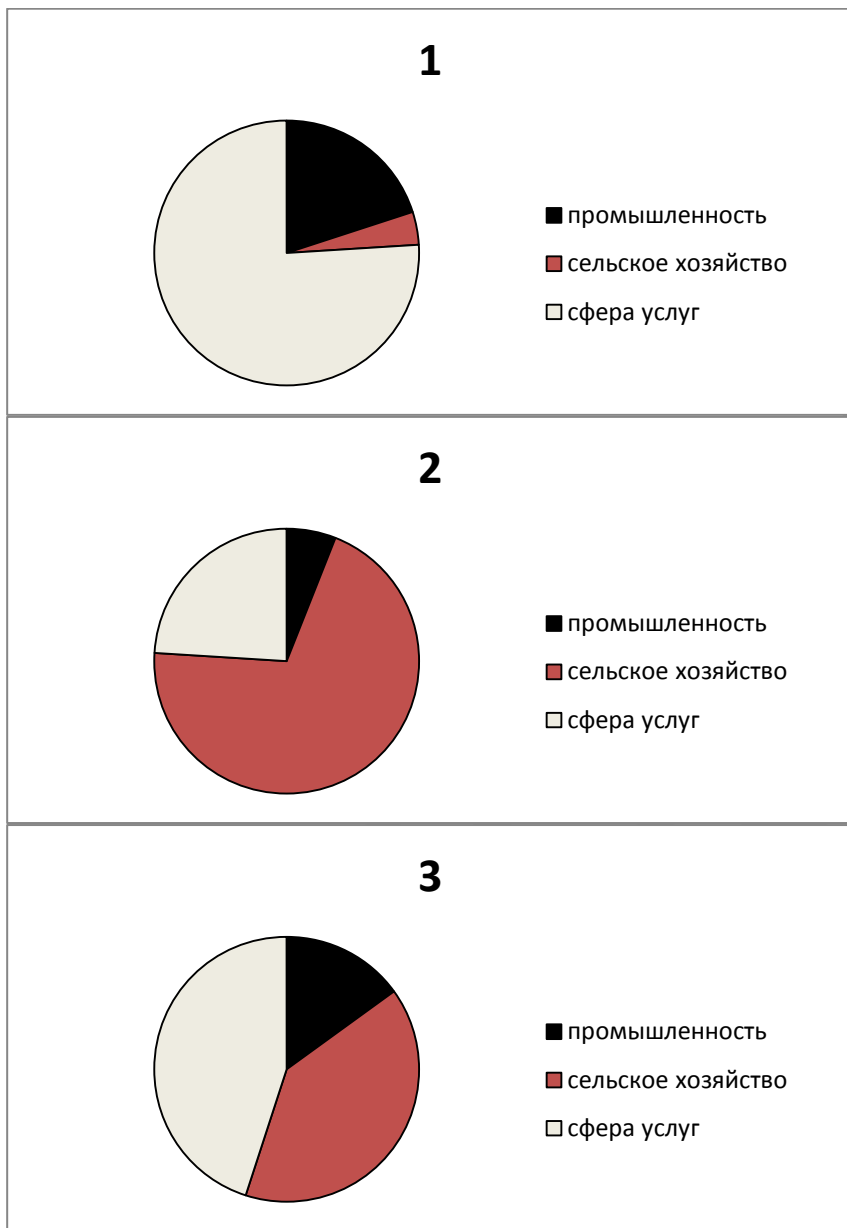


Запишите в ответ цифры, расположив их в порядке, соответствующем буквам:

| А | Б | В |
|---|---|---|
| | | |

8. Установите соответствие между страной и диаграммой, отражающей распределение ее экономически активного населения по секторам экономики: к каждой позиции, данной в первом столбце, подберите соответствующую позицию из второго столбца.

- А) Финляндия
- Б) Мьянма
- В) Боливия

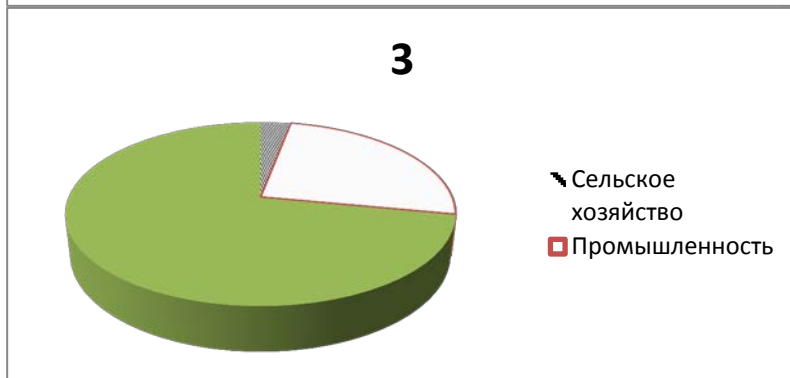
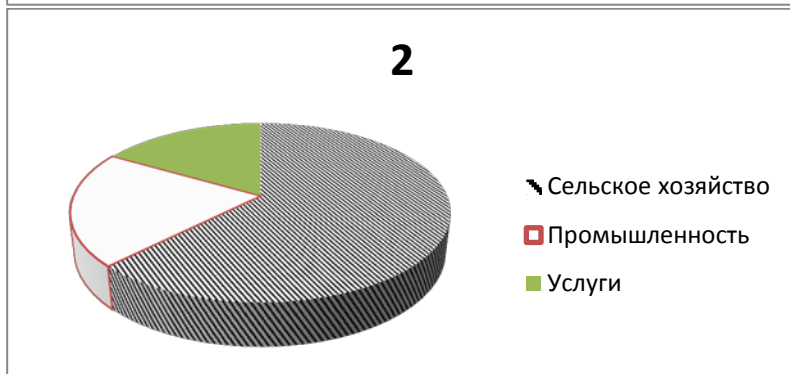
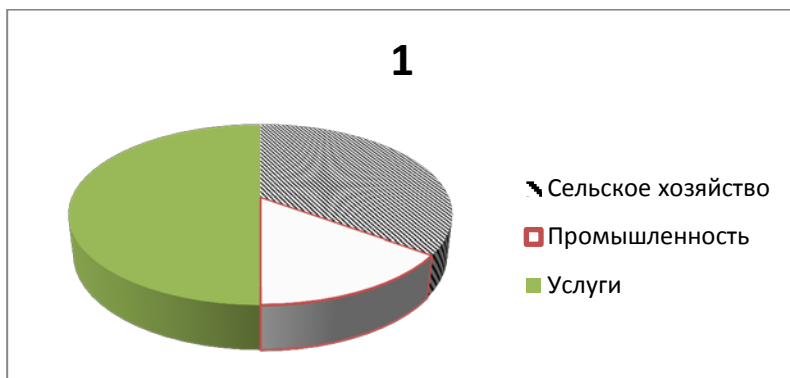


Запишите в ответ цифры, расположив их в порядке, соответствующем буквам:

| А | Б | В |
|---|---|---|
| | | |

9. Установите соответствие между страной и диаграммой, отражающей распределение ее экономически активного населения по секторам экономики: к каждой позиции, данной в первом столбце, подберите соответствующую позицию из второго столбца.

- А) Камбоджа
- Б) Казахстан
- В) Люксембург



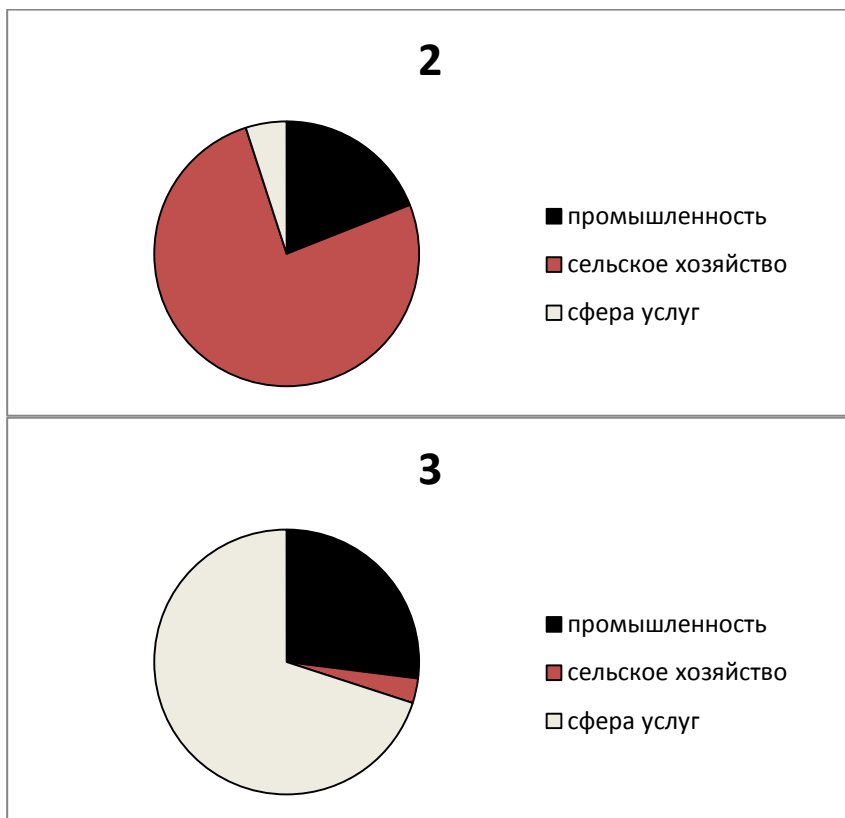
Запишите в ответ цифры, расположив их в порядке, соответствующем буквам:

| А | Б | В |
|---|---|---|
| | | |

10. Установите соответствие между страной и диаграммой, отражающей распределение ее экономически активного населения по секторам экономики: к каждой позиции, данной в первом столбце, подберите соответствующую позицию из второго столбца.

- А) Франция
- Б) Египет
- В) Лаос





Запишите в ответ цифры, расположив их в порядке, соответствующем буквам:

| | | |
|---|---|---|
| А | Б | В |
| | | |

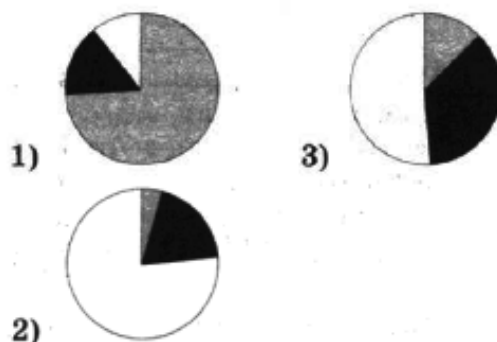
11. Установите соответствие между страной и диаграммой, отражающей распределение ее экономически активного населения по секторам экономики: к каждой позиции, данной в первом столбце, подберите соответствующую позицию из второго столбца.

■ – промышленность ■ – сельское хозяйство □ – сфера услуг

СТРАНА

- А) Норвегия
 Б) Гвинея
 В) Малайзия

**РАСПРЕДЕЛЕНИЕ
 ЭКОНОМИЧЕСКИ АКТИВНОГО
 НАСЕЛЕНИЯ**



РЕШУЕГЭ.РФ

Запишите в ответ цифры, расположив их в порядке, соответствующем буквам:

| | | |
|---|---|---|
| А | Б | В |
| | | |

12. Установите соответствие между страной и диаграммой, отражающей распределение её экономически активного населения по секторам экономики: к каждой позиции, данной в первом столбце, подберите соответствующую позицию из второго столбца.

■ – промышленность ■ – сельское хозяйство □ – сфера услуг

Страна **Распределение экономически активного населения**

А) Норвегия

1)



Б) Эфиопия

2)



В) Сербия

3)



Запишите в ответ цифры, расположив их в порядке, соответствующем буквам:

| | | |
|---|---|---|
| А | Б | В |
| | | |

13. Установите соответствие между страной и диаграммой, отражающей распределение её экономически активного населения по секторам экономики: к каждой позиции, данной в первом столбце, подберите соответствующую позицию из второго столбца.

■ – промышленность ■ – сельское хозяйство □ – сфера услуг

СТРАНА

РАСПРЕДЕЛЕНИЕ ЭКОНОМИЧЕСКИ АКТИВНОГО НАСЕЛЕНИЯ

А) Великобритания

1)



Б) Турция

2)



В) Лаос

3)




Запишите в ответ цифры, расположив их в порядке, соответствующем буквам:

| | | |
|---|---|---|
| А | Б | В |
| | | |

14. Установите соответствие между страной и диаграммой, отражающей распределение её экономически активного населения по секторам экономики: к каждой позиции, данной в первом столбце, подберите соответствующую позицию из второго столбца.

■ – промышленность ■ – сельское хозяйство □ – сфера услуг

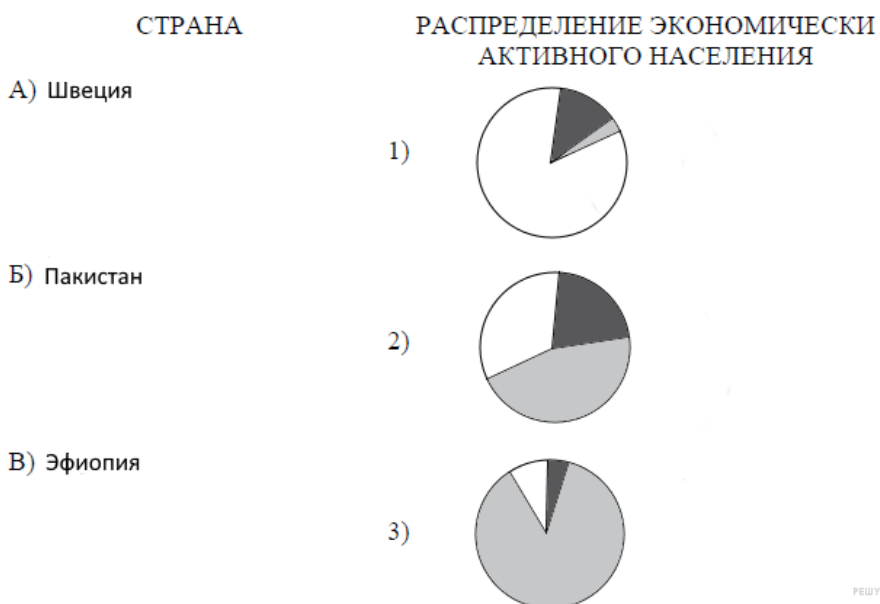


Запишите в ответ цифры, расположив их в порядке, соответствующем буквам:

| А | Б | В |
|---|---|---|
| | | |

15. Установите соответствие между страной и диаграммой, отражающей распределение её экономически активного населения по секторам экономики: к каждой позиции, данной в первом столбце, подберите соответствующую позицию из второго столбца.

■ – промышленность ■ – сельское хозяйство □ – сфера услуг




Запишите в ответ цифры, расположив их в порядке, соответствующем буквам:

| | | |
|---|---|---|
| А | Б | В |
| | | |

16. Установите соответствие между страной и диаграммой, отражающей распределение её экономически активного населения по секторам экономики: к каждому элементу первого столбца, подберите соответствующий элемент из второго столбца.

■ – промышленность □ – сельское хозяйство □ – сфера услуг

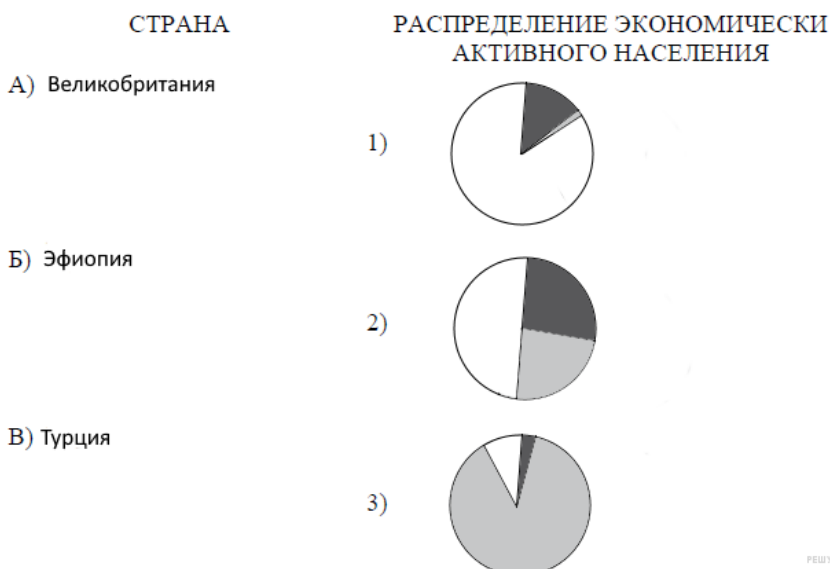


Запишите в ответ цифры, расположив их в порядке, соответствующем буквам:

| | | |
|---|---|---|
| А | Б | В |
| | | |

17. Установите соответствие между страной и диаграммой, отражающей распределение её экономически активного населения по секторам экономики: к каждой позиции, данной в первом столбце, подберите соответствующую позицию из второго столбца.

■ – промышленность □ – сельское хозяйство □ – сфера услуг

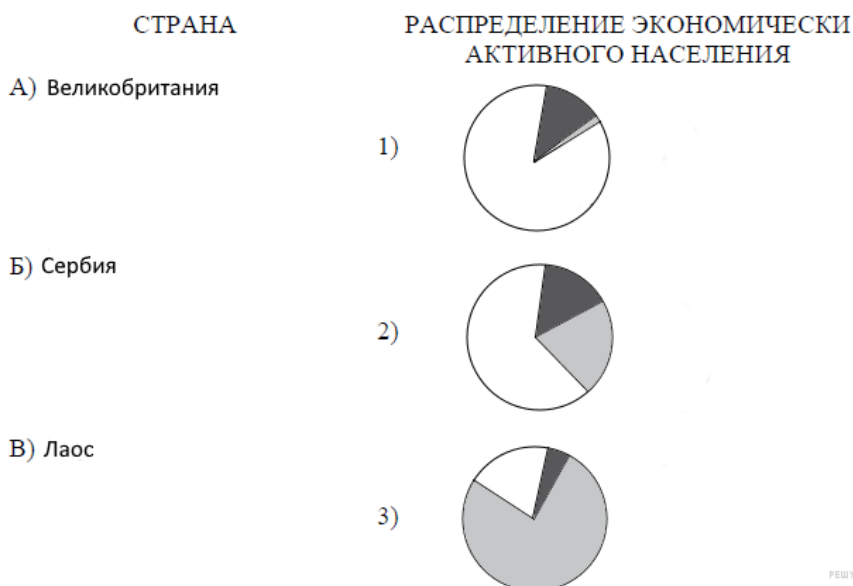


Запишите в ответ цифры, расположив их в порядке, соответствующем буквам:

| | | |
|---|---|---|
| А | Б | В |
| | | |

18. Установите соответствие между страной и диаграммой, отражающей распределение её экономически активного населения по секторам экономики: к каждой позиции, данной в первом столбце, подберите соответствующую позицию из второго столбца.

■ – промышленность ■ – сельское хозяйство □ – сфера услуг




Запишите в ответ цифры, расположив их в порядке, соответствующем буквам:

| | | |
|---|---|---|
| А | Б | В |
| | | |

19. Установите соответствие между страной и диаграммой, отражающей распределение её экономически активного населения по секторам экономики: к каждой позиции, данной в первом столбце, подберите соответствующую позицию из второго столбца.

■ – промышленность ■ – сельское хозяйство □ – сфера услуг




Запишите в ответ цифры, расположив их в порядке, соответствующем буквам:

| | | |
|---|---|---|
| А | Б | В |
| | | |

20. Установите соответствие между страной и диаграммой, отражающей распределение ее экономически активного населения по секторам экономики: к каждой позиции, данной в первом столбце, подберите соответствующую позицию из второго столбца.

■ – промышленность □ – сельское хозяйство □ – сфера услуг




Запишите в ответ цифры, расположив их в порядке, соответствующем буквам:

| А | Б | В |
|---|---|---|
| | | |

21. Установите соответствие между страной и диаграммой, отражающей распределение её экономически активного населения по секторам экономики: к каждой позиции, данной в первом столбце, подберите соответствующую позицию из второго столбца.

■ – промышленность □ – сельское хозяйство □ – сфера услуг


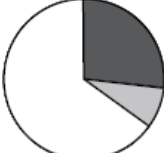



Запишите в ответ цифры, расположив их в порядке, соответствующем буквам:

| А | Б | В |
|---|---|---|
| | | |

22. Установите соответствие между страной и диаграммой, отражающей распределение её ВВП по секторам экономики: к каждой позиции, данной в первом столбце, подберите соответствующую позицию из второго столбца.

■ – промышленность ■ – сельское хозяйство □ – сфера услуг




| СТРАНА | РАСПРЕДЕЛЕНИЕ ВВП ПО СЕКТОРАМ ЭКОНОМИКИ |
|-------------------|--|
| А) Турция | 1)  |
| Б) Великобритания | 2)  |
| В) Лаос | 3)  |

Запишите в ответ цифры, расположив их в порядке, соответствующем буквам:

| А | Б | В |
|---|---|---|
| | | |

23. Установите соответствие между страной и диаграммой, отражающей структуру ВВП по секторам экономики: к каждой позиции первого столбца подберите соответствующую позицию из второго столбца.

■ – промышленность ■ – сельское хозяйство □ – сфера услуг

| СТРАНА | СТРУКТУРА ВВП ПО СЕКТОРАМ ЭКОНОМИКИ |
|-----------------------|---|
| А) Лаос | 1)  |
| Б) Австралийский Союз | 2)  |
| В) Катар | 3)  |

Запишите в ответ цифры, расположив их в порядке, соответствующем буквам:

| А | Б | В |
|---|---|---|
| | | |

24. Установите соответствие между страной и диаграммой, отражающей распределение экономически активного населения: к каждой позиции первого столбца подберите соответствующую позицию из второго столбца.

■ – промышленность ■ – сельское хозяйство □ – сфера услуг

| СТРАНА | РАСПРЕДЕЛЕНИЕ ЭКОНОМИЧЕСКИ АКТИВНОГО НАСЕЛЕНИЯ |
|-------------------|---|
| А) Афганистан | 1)  |
| Б) Новая Зеландия | 2)  |
| В) ОАЭ | 3)  |

Запишите в ответ цифры, расположив их в порядке, соответствующем буквам:

| | | |
|---|---|---|
| А | Б | В |
| | | |

25. Установите соответствие между страной и диаграммой, отражающей структуру ВВП по секторам экономики: к каждой позиции первого столбца подберите соответствующую позицию из второго столбца.

■ – промышленность ■ – сельское хозяйство □ – сфера услуг

| СТРАНА | СТРУКТУРА ВВП ПО СЕКТОРАМ ЭКОНОМИКИ |
|----------------|---|
| А) Киргизия | 1)  |
| Б) Швейцария | 2)  |
| В) Таджикистан | 3)  |

Запишите в ответ цифры, расположив их в порядке, соответствующем буквам:

| | | |
|---|---|---|
| А | Б | В |
| | | |

26. Установите соответствие между страной и диаграммой, отражающей распределение её экономически активного населения по секторам экономики: к каждой позиции первого столбца подберите соответствующую позицию из второго столбца.

■ – промышленность ■ – сельское хозяйство □ – сфера услуг

| СТРАНА | РАСПРЕДЕЛЕНИЕ ЭКОНОМИЧЕСКИ АКТИВНОГО НАСЕЛЕНИЯ |
|-------------|--|
| А) Бразилия | 1) |
| Б) Швеция | 2) |
| В) Марокко | 3) |

Запишите в ответ цифры, расположив их в порядке, соответствующем буквам:

| А | Б | В |
|---|---|---|
| | | |

27. Установите соответствие между страной и диаграммой, отражающей распределение её экономически активного населения по секторам экономики: к каждой позиции первого столбца подберите соответствующую позицию из второго столбца.

■ – промышленность ■ – сельское хозяйство □ – сфера услуг



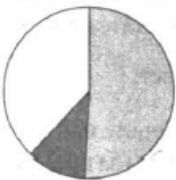
| СТРАНА | РАСПРЕДЕЛЕНИЕ ЭКОНОМИЧЕСКИ АКТИВНОГО НАСЕЛЕНИЯ |
|--------------|--|
| А) Филиппины | 1) |
| Б) Польша | 2) |
| В) Бельгия | 3) |

Запишите в ответ цифры, расположив их в порядке, соответствующем буквам:

| А | Б | В |
|---|---|---|
| | | |

28. Установите соответствие между страной и диаграммой, отражающей распределение её экономически активного населения по секторам экономики: к каждой позиции первого столбца подберите соответствующую позицию из второго столбца.

■ – промышленность ■ – сельское хозяйство □ – сфера услуг




| СТРАНА | РАСПРЕДЕЛЕНИЕ ЭКОНОМИЧЕСКИ АКТИВНОГО НАСЕЛЕНИЯ |
|-------------|---|
| А) Молдавия | 1)  |
| Б) Польша | 2)  |
| В) Норвегия | 3)  |

Запишите в ответ цифры, расположив их в порядке, соответствующем буквам:

| | | |
|---|---|---|
| А | Б | В |
| | | |

29. Установите соответствие между страной и диаграммой, отражающей структуру ВВП по секторам экономики: к каждой позиции первого столбца подберите соответствующую позицию из второго столбца.

■ – промышленность ■ – сельское хозяйство □ – сфера услуг



| СТРАНА | СТРУКТУРА ВВП ПО СЕКТОРАМ ЭКОНОМИКИ |
|------------|---|
| А) Либерия | 1)  |
| Б) Канада | 2)  |
| В) Алжир | 3)  |

Запишите в ответ цифры, расположив их в порядке, соответствующем буквам:

| | | |
|---|---|---|
| А | Б | В |
| | | |

30. Установите соответствие между страной и диаграммой, отражающей распределение её экономически активного населения по секторам экономики: к каждой позиции первого столбца подберите соответствующую позицию из второго столбца.

■ – промышленность ■ – сельское хозяйство □ – сфера услуг


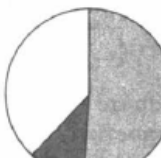
| СТРАНА | РАСПРЕДЕЛЕНИЕ ЭКОНОМИЧЕСКИ АКТИВНОГО НАСЕЛЕНИЯ |
|------------|---|
| А) Армения | 1)  |
| Б) Греция | 2)  |
| В) Япония | 3)  |

Запишите в ответ цифры, расположив их в порядке, соответствующем буквам:

| | | |
|---|---|---|
| А | Б | В |
| | | |

31. Установите соответствие между страной и диаграммой, отражающей распределение её экономически активного населения по секторам экономики: к каждой позиции первого столбца подберите соответствующую позицию из второго столбца.

■ – промышленность ■ – сельское хозяйство □ – сфера услуг

| СТРАНА | РАСПРЕДЕЛЕНИЕ ЭКОНОМИЧЕСКИ АКТИВНОГО НАСЕЛЕНИЯ |
|-------------|---|
| А) Молдавия | 1)  |
| Б) Болгария | 2)  |
| В) Бельгия | 3)  |

Запишите в ответ цифры, расположив их в порядке, соответствующем буквам:

| | | |
|---|---|---|
| А | Б | В |
| | | |

32. Установите соответствие между страной и диаграммой, отражающей распределение её экономически активного населения по секторам экономики: к каждой позиции первого столбца подберите соответствующую позицию из второго столбца.

– промышленность
 – сельское хозяйство
 – сфера услуг

| СТРАНА | РАСПРЕДЕЛЕНИЕ ЭКОНОМИЧЕСКИ АКТИВНОГО НАСЕЛЕНИЯ |
|-------------|---|
| А) Молдавия | 1)  |
| Б) Сингапур | 2)  |
| В) Норвегия | 3)  |

Запишите в ответ цифры, расположив их в порядке, соответствующем буквам:

| | | |
|---|---|---|
| А | Б | В |
| | | |